

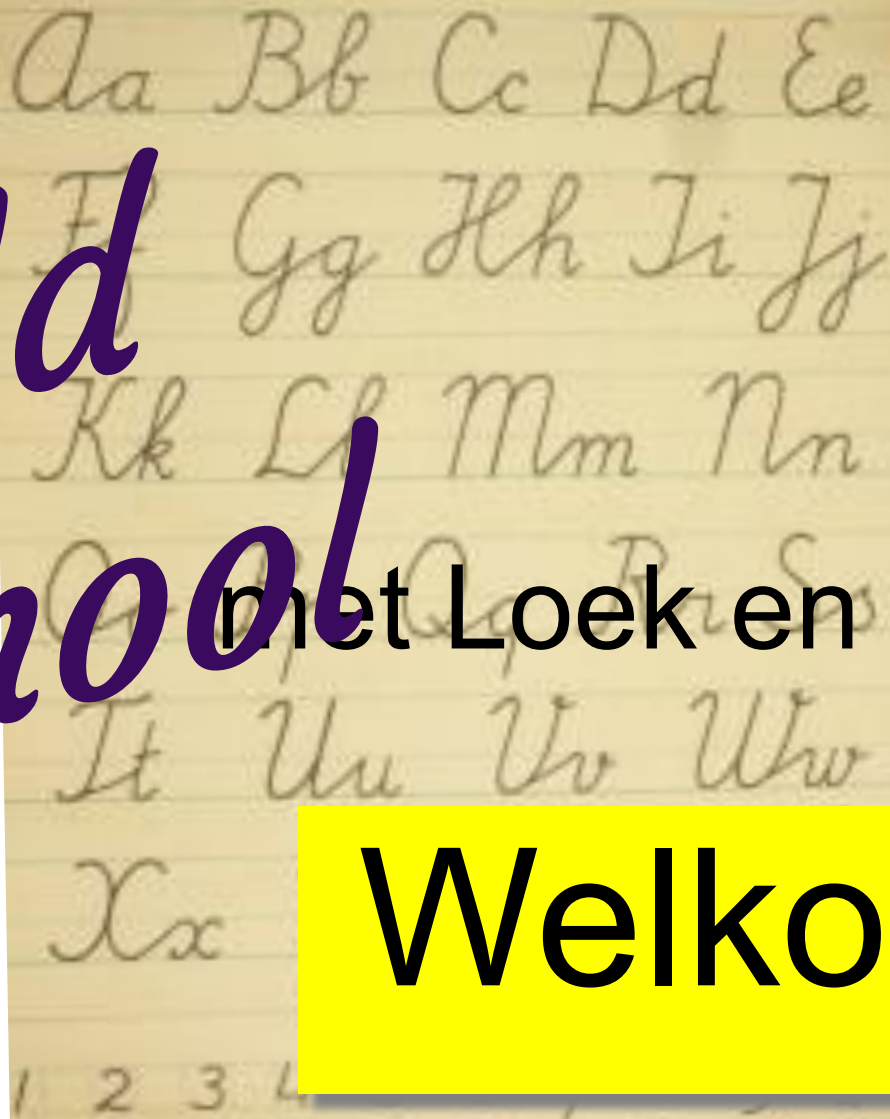


Dorpsquiz

Harmelen

6 april 2022

*Old
school*



met Loek en Jos

Welkom!!

*Old
school*

met Loek en Jos

dictee




1

A	automatisch	
B	automatish	
C	outomatisch	
D	automaties	


2

A	Diversiteit
B	diversiteit 
C	diversiteit
D	dieversiteit

3

A	pyreneeën
B	Piereneeën
C	Pyreneeën
D	Pyreneeën 

4

A	entousiast
B	enthoesiast
C	entousiast
D	enthousiast 

5

A	dokterssassistent
B	doktersasistent
C	doktersassisstent
D	doktersassistent



6

A	onmiddellijk
B	onmidellijk
C	onmiddellijk 
D	onniddellijk


7

A	feeëriek 
B	veeëriek
C	feeriiek
D	feeërriek


8

A	historische	
B	historisch	
C	hiestorische	
D	hisstorische	

9

A	getjeckt
B	gecheckt
C	gecheckt 
D	gecheckd

10

A	specialisaties	
B	specialisatisch	
C	spesialisaties	
D	specialisaties	

*Old
school*

Aa Bb Cc Dd Ee

Ff Gg Hh Ii Jj

Kk Ll Mm Nn

Oo Pp Qq Rr Ss

Tt Uu Vv Ww

met Loek en Jos

spreekwoorden

11



Een nagel aan iemand's doodskist zijn.

A Iemand veel verdriet doen




B Je nagels altijd vreemd opmaken

C Hele goede doodskisten kunnen maken.

D Veel verdriet hebben.

12



In de aap gelogeed zijn.

A Samen naar de diertuin gaan.

B Dat hotel heeft slechte recensies.

C Er slecht aan toe zijn.



D Iets doms doen.

13



Het zijn niet alleen koks die lange messen dragen.

A Uiterlijk vertoon zegt niets.



B Zeerovers kunnen ook best koken.

C Je moet wel een scherp mes hebben als je kok bent.

D Je nergens zorgen over maken.

14



Al draagt een aap een gouden ring, het is en blijft een lelijk ding.

A Als je niet betaalt, krijg je niks.

B Ook in Artis kun je leuke sieraden kopen.

C Je kunt haar beter geen gouden ring geven.

D Mooie kleren alleen maken de man niet.



15



Gods water over Gods akker laten lopen.

A Je nergens zorgen over maken.



B Al het kwaad dat men van iemand weet, vertellen


C Je moet zuinig omgaan met water.

D Het gras bij de buren is altijd groener.

16




Geen geld geen Zwitsers.

A	Bekende mensen krijgen veel te verduren.
B	Een wintersport in Zwitserland is vreselijk duur.
C	Met het slechte ook het goede weggooien.
D	Als je niet betaalt krijg je niks. 

17



Komt voor de bakker.

- | | |
|---|---|
| A | Lekker uitslapen.. |
| B | Dat gaat maar door. |
| C | Komt in orde.  |
| D | Heel veel 's nachts werken. |

18



Iemand met bedstro
betalen.

A	Oogsttijd.
B	Er vandoor gaan zonder te betalen. 
C	Geen geld hebben om een echt matras te kopen.
D	Zwart werk doen.

19



Met Adamsvorken eten.

A

Met vingers eten.



B

Patat eten.

C

Iets heel creatiefs maken.

D


Alleen eten.

20



het kind met het badwater weggooien

Het kind met het badwater weggooien.

A	Je bent je kinderen een beetje zat.
B	Ook in Artis kun je leuke sieraden kopen.
C	Iets stoms doen. 
D	Chagrijnig zijn..

0 100 200

Old school

met Loek en Jos

aardrijkskunde

21



NOORD-BRABANT

a	's Hertogenbosch
b	Helmond 
c	Eindhoven
d	Tilburg

22



ZEELAND

a	Zierikzee	🏆
b	Middelburg	
c	Veere	
d	Terneuzen	

23




FRIESLAND

a	Leeuwarden
b	Dokkum
c	Harlingen
d	Drachten 

24



GELDERLAND

a	Arnhem
b	Apeldoorn
c	Nunspeet 
d	Putten

25



DRENTHE

a	Coevorden
b	Emmen
c	Meppel
d	Hoogeveen 

26

Wat is de hoofdstad van



? Albanië

a	Accra
b	Tirana 
c	Vaticaanstad
d	San Marino

27

Wat is de hoofdstad van



? Hongarije

a

Boedapest



b

Boekarest

c

Sofia

d

Kiev

28

Wat is de hoofdstad van



? Sri Lanka

- | | |
|---|---------------------------|
| a | Ndjamena |
| b | Hanoi |
| c | Pyongyang |
| d | Sri Jayewardenepura Kotte |
- 

29

Wat is de hoofdstad van



? Montenegro

a	Mostar	
b	Belgrado	
c	Sofia	
d	Podgorica	

30

Wat is de hoofdstad van



? Armenië

a Damascus

b Tbilisi

c Bakoe

d Jerevan



Old school

met Loek en Jos



ontleden

31

De fietser schuilt onder de paraplu.



A	Onderwerp	
B	Gezegde	
C	Lijdend voorwerp	
D	Meewerkend voorwerp	

32. De overtreding kostte **de spits** een gele kaart.



A	Onderwerp
B	Gezegde
C	Lijdend voorwerp
D	Meewerkend voorwerp 

33

Je **lijkt** wel **een**
vogelverschrikker met dat
haar!



A	Onderwerp
B	Gezegde 
C	Lijdend voorwerp
D	Meewerkend voorwerp

34

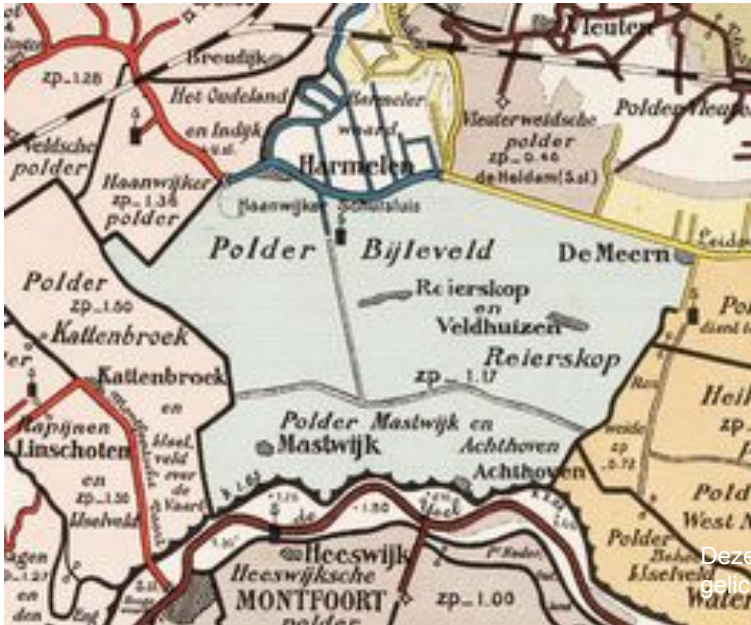
Zij **heeft** dat helemaal in haar eentje **moeten uitzoeken**.



A	Onderwerp
B	Gezegde 
C	Lijdend voorwerp
D	Meewerkend voorwerp

35

De jongelui uit Harmelen lopen langs de oude Rijn en lossen de vragen op.



A	Onderwerp 
B	Gezegde
C	Lijdend voorwerp
D	Meewerkend voorwerp

Old school



met Loek en Jos

Deze foto van Onbekende
auteur is gelicentieerd onder
CC BY-SA

Geschiedenis

36 Maurits (1567-1625), prins van oranje, in de slag bij? (1600)

A: de slag bij Waterloo

B: de slag bij Trajectum

C: de slag bij Nieuwpoort

D: de slag bij Utrecht



37



- A: Woeste Willem.
- B: Willem de Stoute.
- C: Willem de Grote.
- D: Willem de Zwijger.



2 Een vaderlandse held

Tijdens de aanloop en de beginjaren van de Tachtigjarige Oorlog was een sleutelrol weggelegd voor een van de belangrijkste figuren uit de vaderlandse geschiedenis: Willem van Oranje. Wat was zijn bijnaam?

38. Naar welk eiland werd Napoleon Bonaparte in 1814 verbannen



A: Sicilië

B: Elba

C: Sardinië

D: Sint Helena



39

Aletta Jacobs (1854-1929) is bekend geworden omdat zij streed voor de belangen van een achtergestelde groep die rond 1900 weinig rechten had. Voor de rechten van welke groep kwam zij in het bijzonder op?

Voor de rechten van:

A: Arbeiders

B: Kinderen

C: Slaven

D: Vrouwen



De Noormannen voor Dorestad

40

Dorestad is:

A: Wijk bij Duurstede 

B: Leiden

C: Nijmegen

D: Woerden



*old
school*



met Loek en Jos

rekenen

41.

Een topvoetballer verdient 4,5 miljoen euro per jaar
Hij speelt 50 wedstrijden in een jaar van elk 90 minuten.

Hoeveel verdient de voetballer gemiddeld per gespeelde minuut?

A: 100 euro

B: 500 euro

C: 900 euro

D 1000 euro 



42.

Alicia is met haar ouders op vakantie in België. Ze zijn 's ochtends om 8.30 uur met de auto vertrokken en kwamen om 11.30 uur aan bij hun bestemming. De afstand van hun huis naar het vakantiepark is 276 km. Wat was hun gemiddelde snelheid?

A: 92 km/u 

B: 138 km/u

C: 88 km/u

D: 112 km/u



43. Reken de som uit en kies de juiste optie. $47,6 + 5,94 + 0,02$ Kies uit :

A: 53,56


B: 53,60

C: 53,66

D: 52,56



Breinvreker



44.

$$5\frac{2}{5} \times \frac{2}{5} = \dots$$

- A: $5\frac{4}{5}$
B: $5\frac{4}{25}$
C: $6\frac{4}{10}$
D: $7\frac{4}{25}$



45

94399

49909

+

A: 134308

B: 144308

C: 144208

D: 145308



46.

De heer Van Dijk is 61 jaar.
De heer Van Dijk heeft 4 zonen.
Zoon Jan is twee keer zo oud als zoon Piet.
Zoon Piet is twee keer zo oud als zoon Theo.
Zoon Wim is vijf jaar ouder dan zoon Theo.
De heer Van Dijk is even oud als alle jongens samen.

Hoe oud is zoon Wim?

- A : 7 jaar
- B : 12 jaar
- C : 14 jaar
- D : 22 jaar



47.

In een zaak worden flesjes van 50 cc gevuld ($1 \text{ cc} = 1 \text{ cm}^3$).

Hoeveel van die flesjes kun je vullen met 10 liter vloeistof?

- A: 2 flesjes
- B: 20 flesjes
- C: 200 flesjes
- D: 2000 flesjes



48.

Barbara gaat met haar beste vriendin winkelen. Ze heeft een leuke spijkerbroek gezien en gaat hem passen. Hij staat haar geweldig en ze besluit hem te kopen. Hij is ook nog in de aanbieding! De spijkerbroek kostte eerst € 39,00, maar kost nu € 5,50 minder. Barbara betaalt met een briefje van € 50,00. Hoeveel krijgt zij terug?

A: € 17,50

B: € 16,50



C: € 15,50

D: € 14,50



49.

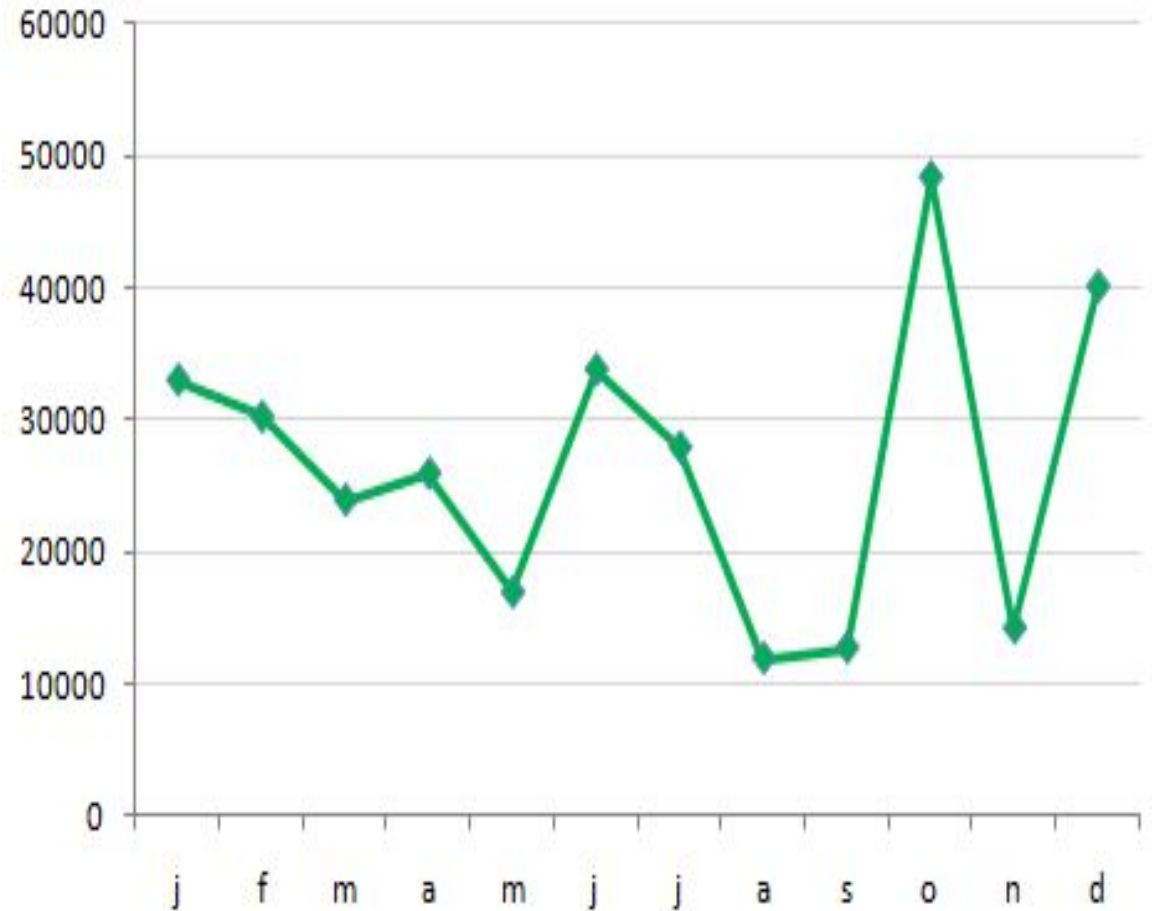
In deze grafiek zie je het aantal toeristen in een stad. Hoeveel toeristen waren er in juli?

A: 20800

B: 27900

C: 36300

D: 25900



50.

Leonardo komt 12 minuten te laat voor de trein van 14:12 van Vleuten naar Utrecht. Deze trein rijdt ieder uur op dezelfde tijd. Hoe lang moet hij wachten op de volgende trein?

- A: 12 minuten
- B: 24 minuten
- C: 48 minuten
- D: 60 minuten



*Old
school*



met Loek en Jos

einde !!!



Dorpsquiz

Harmelen

6 april 2022

bedankt